

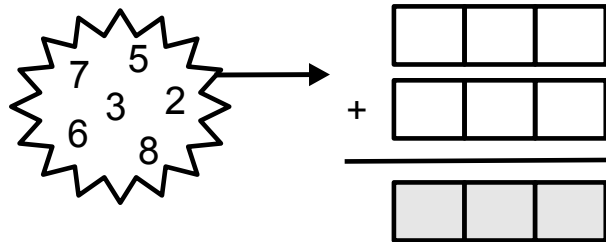


Problème de la semaine

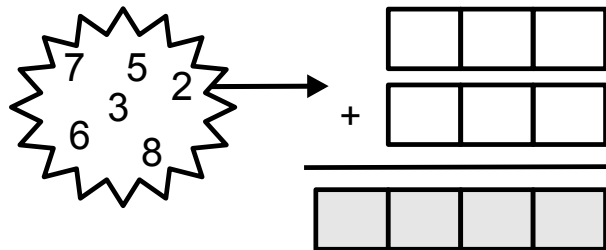
Problème A

Juste du remplissage

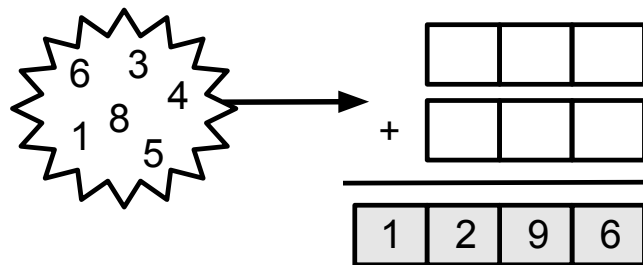
- A) Arrange les nombres suivants dans les cases blanches de façon à obtenir la plus *petite* somme possible.



- B) Arrange les nombres de la partie A) dans les cases blanches de façon à obtenir la plus *grande* somme possible.



- C) Arrange les nombres ci-dessous dans les cases blanches pour obtenir la somme donnée.



Pour chaque partie, combien de solutions différentes peux-tu trouver?

Tu n'imprimes pas cette page? Tu peux remplir les cases sur notre [page interactive](#).